

**2**

Ф. И: \_\_\_\_\_

**Рассмотри таблицу и ответь на вопросы.**

В школе изучают разные иностранные языки. В таблице указано, сколько человек и какой язык учат учащиеся в первом, втором и третьем классах. Какой язык для изучения чаще всего выбирают ученики?

Ответ:

	1 класс	2 класс	3 класс
английский язык	33	22	54
немецкий язык	12	15	25
французский язык	17	11	54

Сколько учеников изучает немецкий язык во 2 классе?

Ответ:

**Рассмотри таблицу и ответь на вопросы.**

На фабрике работают три станка по производству подушек. В таблице указано, сколько подушек выпустил каждый станок в определённый день недели.

	1	2	3
понедельник	125	390	430
вторник	275	410	564
среда	553	603	120
четверг	124	128	372

Сколько подушек выпустил за 4 дня 2 станок?

Сколько подушек выпустили во вторник 1 и 3 станки?

На сколько подушек выпустил в понедельник 2 станок больше, чем 1 станок?

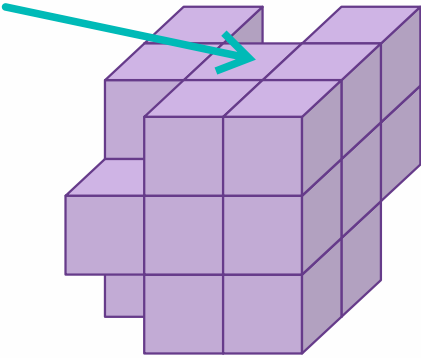
В какой день недели станки произвели самое большое количество подушек?




4

Ф. И: \_\_\_\_\_

**Прочитай условие задачи и изобрази сторону фигуры, на которую указывает стрелка.**



Из большого куба Женя вырезал 4 маленьких кубика так, как показано на рисунке. Затем одну из сторон получившейся фигуры он покрасил и сделал её отпечаток на листе бумаги. Изобрази отпечаток, который получился у Жени, если он покрасил ту сторону, на которую указывает стрелка. Один кубик следует изображать одной клеткой.



@umutaevaanna

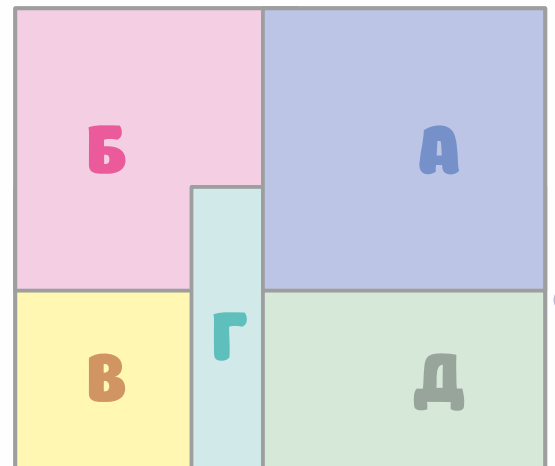


5

Ф. И: \_\_\_\_\_

**Прочитай условие задачи и укажи порядок выполнения аппликации.**

На прямоугольный лист бумаги Сеня наклеил один за другим пять одинаковых квадратов и затем подписал видимые части квадратов буквами А, Б, В, Г, Д. В итоге у него получилась аппликация, изображённая на рисунке справа. Определи последовательность, с которой Сеня наклеивал квадраты. В ответе укажи буквы, написанные на квадратах, в том порядке, в котором наклеивались соответствующие им квадраты.



@umutaevaanna

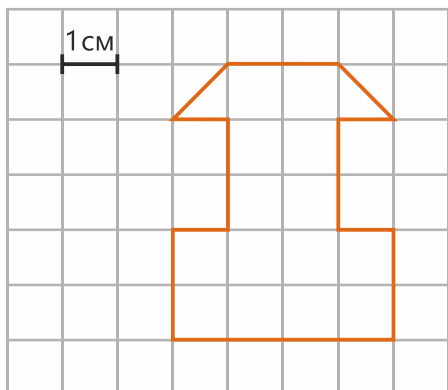
Ответ: \_\_\_\_\_



10

Ф. И: \_\_\_\_\_

На клетчатом поле изображена фигура.  
Сторона клетки 1 см. Рассмотрй рисунок, ответь на вопросы.



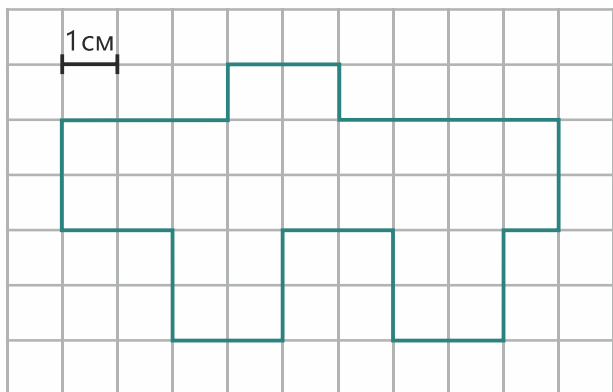
• Чему равна площадь фигуры?

Ответ:

• Чему равен периметр фигуры?

Ответ:

На клетчатом поле изображена фигура. Сторона клетки 1 см. Рассмотрй рисунок, найди площадь данной фигуры.

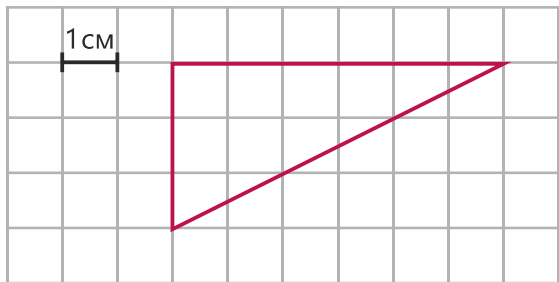


Площадь фигуры равна:




Закончи раскрашивать клетки так, чтобы получился прямоугольник, площадь которого равна площади фигуры.

На клетчатом поле со стороной клетки 1 см изображён треугольник.  
Найди площадь треугольника. Нарисуй на соседнем поле такой прямоугольник, чтобы его площадь была в 2 раза больше площади треугольника.



Площадь треугольника равна:





### Реши задачу.

[illegible][illegible]




21

Ф. И: \_\_\_\_\_

**Выбери неверное утверждение.**

- ☐ В 1 метре 100 сантиметров
- ☐ В 1 километре 1000 метров
- ☐ 100 дециметров составляют 1 метр
- ☐ 10 сантиметров составляют 1 дециметр

**Сравни.**

813 см

8 м 1 дм

300 см

3 дм

53 км

5300 м

53 м 4 дм

53 м 4 дм 3 см

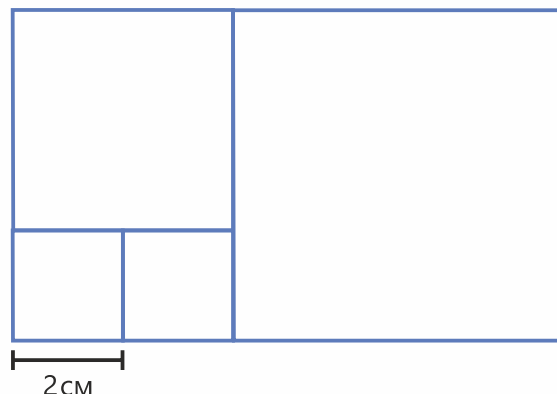

50 см

5000 мм

**Выбери верное утверждение.**

- ☐ Расстояние между городами может быть равным 210 км 54 кг.
- ☐ Массу предметов измеряют в метрах.
- ☐ Рост четвероклассника может быть равным 140 дм.
- ☐ Длина пути измеряется в метрах.

**Из четырёх квадратов сложили прямоугольник. Чему равны площадь и периметр прямоугольника, если сторона маленького квадрата равна 2 см?**

**Решение:****Ответ:**



### Реши задачу.

[illegible][illegible][illegible][illegible]

**30**

Ф. И: \_\_\_\_\_

**Прочитай и ответь на вопрос.**

Мне позвонил крокодил  
И со слезами просил:  
– Как можно скорее, на этой неделе,  
Пришли нам двенадцать пудов карамели:  
Моей матушке, Софье Валерьевне,  
Моей бабушке, Кларе Корнеевне,  
Да и дедушке, Карлу Васильевичу,  
И сестрице, Альбине Геннадьевне,  
И, конечно, любимому батюшке!  
Ему и отправь всю посылочку.  
Посылку я тут же собрал,  
Взвесил, измерил, упаковал.  
Сижу, размышляю: куда отправлять?  
Батюшке? Как его звать?



©umutaevaanna

Ответ:

**31**

Ф. И: \_\_\_\_\_

**Прочитай и ответь на вопрос.**

Алиса, Соня, Болванщик и Мартовский Заяц выступали свидетелями в зале суда. Для них заранее приготовили кресла и подписали их так: «Алиса или Соня», «Болванщик или Алиса», «Мартовский Заяц или Болванщик», «Соня или Мартовский Заяц». Алиса перепробовала все кресла и выбрала самое большое. На нём было написано: «Соня или Мартовский Заяц». Когда остальные свидетели расселись по креслам, Алиса прочитала надписи и подумала: «Как странно, ни одна из надписей не верна!»

Какое кресло занял Болванщик?

Ответ:

Кто занял кресло с надписью «Болванщик или Алиса»?

Ответ:

©umutaevaanna



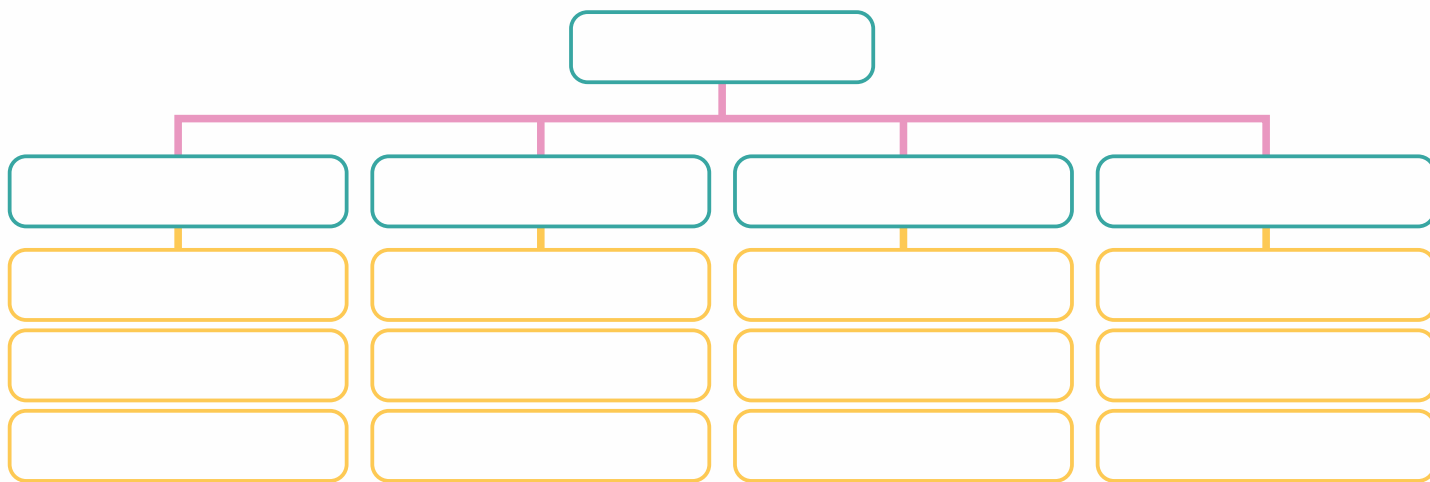


40

Ф. И: \_\_\_\_\_

**Представь информацию из текста  
в виде схемы «Погода».**

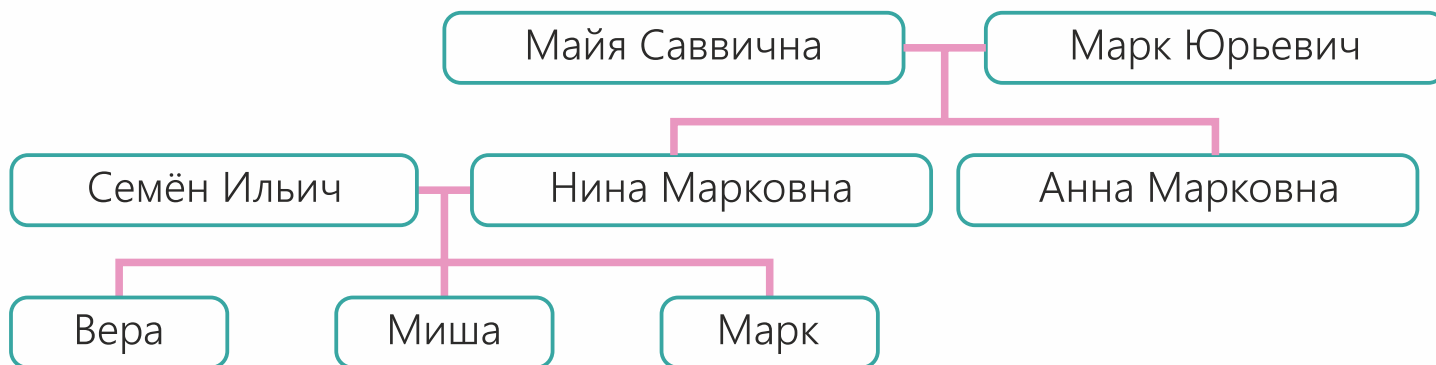
Ты собираешься выйти на улицу. Надо подобрать одежду по погоде. А из чего складывается погода? Во-первых, это температура воздуха (холодно, тепло, жарко). Во-вторых, это облачность (небо ясное или затянутое облаками). В-третьих, это осадки (дождь, снег, град). В-четвёртых, это ветер (сильный или слабый). Наблюдения учёных позволяют составлять прогноз погоды.



41

Ф. И: \_\_\_\_\_

**Рассмотри схему «Семейное дерево».  
Восстанови текст с помощью этой схемы.**



В нашей семье \_\_\_\_\_ детей. Меня зовут \_\_\_\_\_. У меня есть брат Миша и сестра Вера. Нашего папу зовут \_\_\_\_\_. Наша мама – \_\_\_\_\_. Меня называли в честь дедушки Марка. Он – отец \_\_\_\_\_. Нашу бабушку зовут \_\_\_\_\_, а сестру нашей мамы – \_\_\_\_\_.