

Задания для муниципального этапа олимпиады по окружающему миру  
1 класс

Фамилия Имя \_\_\_\_\_  
Школа \_\_\_\_\_

Задания на 3 балла

1. Найди правильный ответ. Подчеркни

- Какие части растений употребляют в пищу у салата:  
А) Корень      Б) Листья      В) Стебель
- Как называется самая необходимая звезда для жизни человека?  
А) Полярная звезда      Б) Солнце      В) созвездие Кассиопея
- Какую службу можно вызвать по телефону 03?  
А) Скорая помощь      Б) Полиция      В) Пожарная охрана

2. Четвертое слово к ним не подходит. Найдите его и подчеркните.

- А) Корень, стебель, пень, лист;
- Б) Яблоко, шишка, груша, апельсин;
- В) Ландыш, кислица, одуванчик, орешник.

3. Что обозначает этот знак? Обведи букву правильного ответа.

- А) остановки автобуса;
- Б) Пешеходный переход;
- В) Подземный переход



Задания на 4 балла

1. Продолжи предложение.

- У птицы крылья, а у человека \_\_\_\_\_
- У зверя лапа, а у человека \_\_\_\_\_
- У собаки морда, а у человека \_\_\_\_\_
- У льва пасть, а у человека \_\_\_\_\_

2. Если сложить эти слова и переставить буквы, то в сумме получатся названия животных. Напиши какие животные спрятались.

- МОХ + ЯК = \_\_\_\_\_
- ЛИК + РОК = \_\_\_\_\_



3. Соедини название праздника с его датой

- |            |                            |
|------------|----------------------------|
| 8 марта    | Новый год                  |
| 31 декабря | День знаний                |
| 1 сентября | День защитника Отечества   |
| 23 февраля | Международный женский день |



Задание на 5 баллов

1. Разгадай ребусы:



КА

И = Ы

2. Вам, наверное, известно, что иногда в характере человека и животного есть что – то общее. « Характер наш и братьев наших меньших» (Закончи фразу)

Трусливый, как \_\_\_\_\_

Хитрый, как \_\_\_\_\_

Голодный, как \_\_\_\_\_

Трудолюбивый, как \_\_\_\_\_

Упрямый, как \_\_\_\_\_

3. Собери из букв 5 названий животных:

И В Р Е О Ы Н Л С Б К Ъ Т А



Задания для муниципального этапа олимпиады по окружающему миру

2 класс

Фамилия Имя \_\_\_\_\_

Школа \_\_\_\_\_

Задания на 3 балла

1. Найди правильный ответ. Подчеркни.

- Каким видом транспорта является легковой автомобиль, принадлежащий семье из 3-х человек?

А) Личный                      Б) Общественный                      В) Особого назначения

- Что находится в мыльном пузыре?

А) мыло                      Б) воздух                      В) вода

- Какой дом у зайца?

А) нора    Б) любой куст    В) берлога

2. Соедини линиями части народных примет.

Декабрь год кончает

к потеплению

Яркие звезды к морозу, тусклые -

жди мороза

Синички с утра начинают пищать

зиму начинает

3. Что обозначает этот знак



А) Осторожно, люди идут

Б) Движение пешеходов запрещено

В) Движение запрещено

Задания на 4 балла

1. Запиши названия различных животных, начинающихся с буквы «С»

С \_\_\_\_\_

С \_\_\_\_\_

С \_\_\_\_\_

С \_\_\_\_\_

2. Как называется особая территория, на которой растения и животные находятся под охраной? \_\_\_\_\_


3. Подчеркни одной чертой то, что относится к внутреннему строению человека?

Голова, сердце, шея, печень, лёгкие, туловище, мозг, живот



Задание на 5 баллов

1. По каким признакам можно разделить этих животных на две группы? Придумай несколько способов и запиши название каждой группы.




1-й способ	_____	И	_____
2-й способ	_____	И	_____
3-й способ	_____	И	_____
4-й способ	_____	И	_____
5-й способ	_____	И	_____

2. Отгадай, от чьего лица идет речь?

А) В старину меня прозвали ворон-ягода. Из моего сока готовили фиолетовые чернила. Меня можно встретить в лесах от Подмосковья до тундры. В моей мякоти много витаминов, железа. Я улучшаю зрение.

Б) Меня в народе называют «медвежьей ягодой». Но не только медведь любит мною лакомиться. Собирают меня и сушат про запас на зиму люди. Знают люди, что не обойтись им без меня во время простуды.

3. Отгадай ребусы





Задания для муниципального этапа олимпиады по окружающему миру  
3 класс

Фамилия Имя \_\_\_\_\_  
Школа \_\_\_\_\_

Задания на 3 балла

1. Обведи верные свойства чистой воды:

- А) Прозрачная
- Б) Кислая
- В) Текучая
- Г) Имеет форму шара
- Д) Не имеет запаха

2. Найди правильный ответ. Подчеркни

- Какой из предметов сделан из того, что когда – то было живым?  
А) Глиняная кружка Б) Стальной нож В) Льняное платье
- Как называется плод арбуза?  
А) Овощ Б) Фрукт В) Ягода
- Как называется наземный переход, отмеченный на асфальте белыми полосами?  
А) Олень Б) Зебра В) Лошадь

3. Соедини стрелками. Что нужно сделать, если ты:

Порезался	Охладить и перевязать
Обжегся	Приложить холодный компресс
Ушибся	Смазать йодом и перевязать

Задания на 4 балла

1. Найдите в каждой строчке "лишнее слово"

- 1. Термометр, ножницы, флюгер, микроскоп.
- 2. Сосна, пихта, ольха, ель.
- 3. Россия, Франция, Санкт-Петербург, Германия.
- 4. Гейзер, компас, барометр, термометр.

2. На уроке окружающего мира проделали опыт: немного свежей почвы продолжительно нагревали на огне. Вскоре увидели дым, почувствовали неприятный запах. О чем говорит этот опыт. Выбери правильный ответ.

- А) В почве есть воздух.
- Б) В почве содержатся песок и глина.
- В) Для сохранения почвы нужно беречь растения.
- Г) В почве есть перегной.



**3. Вставь пропущенные стадии развития животных**

А) Икринка ---- малек ----

Б) Яйцо ----  ---- куколка ---- жук

В) Икринка ----  ---- лягушка

Г) Яйцо ---- личинка ----  ---- бабочка

**Задание на 5 баллов**


**1. Подумай. Запиши ответ.**

А) Если тебе когда – нибудь понадобится расколоть полено этого дерева, сделать это будет нелегко: топор увязнет в древесине. И ты поймешь, почему дерево так названо. **Что это за дерево?** \_\_\_\_\_

Б) В народе это дерево называют «сладким». Нет, конфеты на нем не растут. Но посмотри, как во время цветения дерева летят к нему пчелы. И мед потом будет самый вкусный и душистый. **Назови это дерево.** \_\_\_\_\_

**2. Расшифруй ребусы и укажи, что лишнее**

А) \_\_\_\_\_ Б) \_\_\_\_\_ В) \_\_\_\_\_



Лишнее \_\_\_\_\_

**3. Реши экологическую задачу.**

Ёж и крот относятся к одному отряду насекомоядных. Но ёж впадает в зимнюю спячку, а крот – нет. Чем объясняются различия в жизнедеятельности животных? \_\_\_\_\_